


PENYUSUNAN TABEL



Matematika untuk Kelas IV

Noval Abdillah, S.Pd., Gr.



Penyusunan **Data**

Mustofa mengalami kecelakaan dan luka. Pada masa pemulihan, ia ingin membuat poster agar anak-anak lebih hati-hati.



Apa yang perlu **dilakukan**?



Apa yang
hendaknya kita
tulis di poster?

Saya tidak bisa membuat poster, jika saya tidak tahu tentang hal-hal yang membuat kita harus lebih hati-hati.




Apa yang
hendaknya kita
selidiki?

Kita perlu mengetahui beberapa hal penting, jika kita ingin menyelidiki jenis-jenis luka dan tempat terjadinya kecelakaan.



Yuk **Selidiki!**

Kita telah menyelidiki
kecelakaan yang terjadi selama
tiga hari di sekolah Mustofa



Yuk **selidiki!**

Berikut adalah catatan kecelakaan di 2 sekolah.


Catatan Kecelakaan

Sekolah A

Kelas	Waktu	Tempat	Jenis Luka
5		Koridor	Memar
4	10 ~ 11	Lapangan	Tergores
5	10 ~ 11	Koridor	Memar
1	12 ~ 13	R. Kelas	Luka kecil
3	13 ~ 14	R. Olahraga	Luka kecil
3	13 ~ 14	Lapangan	Retak
6	14 ~ 15	R. Olahraga	Luka kecil
5	9 ~ 10	R. Kelas	Tergores
4	10 ~ 11	Lapangan	Luka kecil
5	11 ~ 12	R. Olahraga	Luka kecil
3	13 ~ 14	R. Olahraga	Memar

Sekolah B

Kelas	Waktu	Tempat	Jenis Luka
1	13 ~ 14	R. Kelas	Luka kecil
2	13 ~ 14	Lapangan	Luka kecil
6	14 ~ 15	R. Olahraga	Keseleo
6	15 ~ 16	Lapangan	Jari terkilir
5	8 ~ 9	R. Kelas	Tergores
5	10 ~ 11	R. Olahraga	Luka kecil
3	10 ~ 11	Tangga	Memar
4	11 ~ 12	R. Olahraga	Terkilir
2	11 ~ 12	Lapangan	Memar
6	13 ~ 14	R. Kelas	Luka kecil
4	14 ~ 15	Koridor	Memar



Penyusunan Tabel

Ringkas data kecelakaan dengan tabel

Yuk **selidiki!**



Periksa tempat-tempat kecelakaan itu terjadi.

- A. Di mana kecelakaan yang sangat sering terjadi?
- B. Ceritakan hal-hal yang telah kamu catat.

Banyak Siswa dan Tempat

Tempat Kecelakaan	Banyak Siswa	
	Sekolah A	Sekolah B
Lapangan		
Koridor		
Ruang Kelas		
Ruang Olahraga		
Tangga		
Jumlah		

Yuk **selidiki!**



Selidiki jenis-jenis luka

- Luka apa yang paling sering terjadi?
- Ceritakan hal-hal yang telah kamu catat.

Banyak Siswa dan Jenis Luka

Jenis Luka	Banyak Siswa	
	Sekolah A	Sekolah B
Tergores		
Memar		
Luka kecil		
Retak		
Jari Terkilir		
Terkilir		
Jumlah		

Yuk **selidiki!**




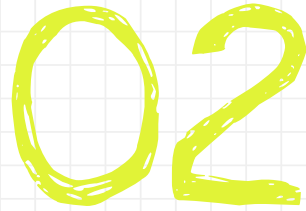
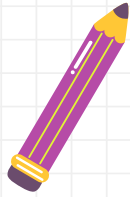
Lengkapi tabel berikut dengan banyaknya tempat kecelakaan dan jenis-jenis luka.

Jenis Tempat	Tergores	Memar	Luka Kecil	Retak	Jari Terkilir	Terkilir	Jumlah
Lapangan							
Koridor							
R. Kelas							
R. Olahraga							
Tangga							
Jumlah							

Apa yang kalian **ketahui?**

1. Luka yang paling sering terjadi berdasarkan tempat kecelakaan dan jenis luka?
2. Dimana terjadinya kecelakaan yang paling banyak?
3. Apa yang dapat kamu simpulkan dari tabel di atas?





Membuat Poster

Ringkas data kecelakaan dengan Poster

Yuk buat poster!

Kita telah mencatat banyak siswa yang mengalami luka-luka. Ayo periksa berbagai data untuk membuat poster dan menyajikannya.

